


CLASSE 1ª

QUADERNO DI MATEMATICA
PER LE VACANZE DI NATALE



DI



IL NUMERO ZERO



★ SCRIVI IL NUMERO 0

0												
0												
0												

★ DISEGNA TANTI ELEMENTI QUANTI NE INDICA IL NUMERO

4

2

0

3

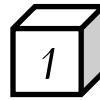
IL NUMERO UNO



★ SCRIVI IL NUMERO **1**

1												
1												
1												

★ COLORA IL REGOLO CHE VALE **1**



★ DISEGNA **1** ALBERO E **1** BAMBINO A DESTRA

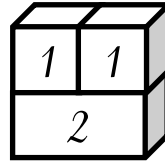
IL NUMERO DUE



☆ SCRIVI IL NUMERO 2

2												
2												
2												

☆ COLORA IL REGOLO CHE VALE 2



☆ ESEGUI L'ADDIZIONE

1	+	1	=	
---	---	---	---	--

☆ DISEGNA 2 FIORI E 2 FARFALLE SOPRA I FIORI

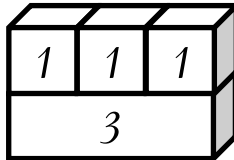
IL NUMERO TRE



★ SCRIVI IL NUMERO 3

3												
3												

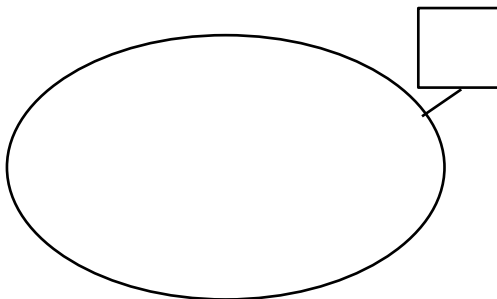
★ COLORA IL REGOLO CHE VALE 3



★ ESEGUI L'ADDIZIONE

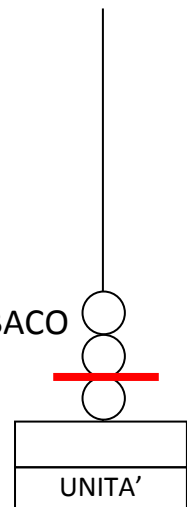
1	+	1	+	1	=	
---	---	---	---	---	---	--

★ DISEGNA 3 ELEMENTI NELL'INSIEME



★ SCRIVI L'ADDIZIONE RAPPRESENTATA DALL'ABACO

	+		=	
--	---	--	---	--



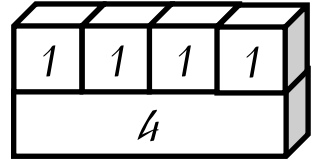
IL NUMERO QUATTRO



★ SCRIVI IL NUMERO 4

4												
---	--	--	--	--	--	--	--	--	--	--	--	--

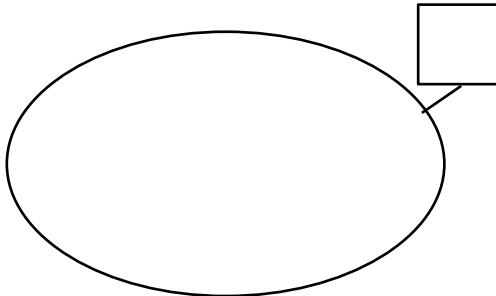
★ COLORA IL REGOLO CHE VALE 4



★ ESEGUI LE ADDIZIONI

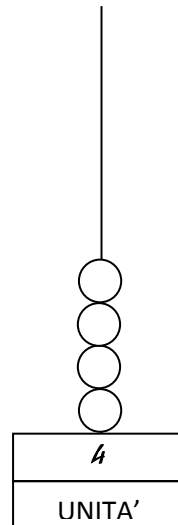
2	+	2	=					3	+	1	=	
0	+	4	=					1	+	3	=	

★ DISEGNA 4 ELEMENTI NELL'INSIEME



★ RAPPRESENTA UN'ADDIZIONE SULL'ABACO E SCRIVILA

	+		=	
--	---	--	---	--



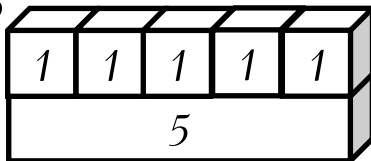
IL NUMERO CINQUE



★ SCRIVI IL NUMERO 5

5												
---	--	--	--	--	--	--	--	--	--	--	--	--

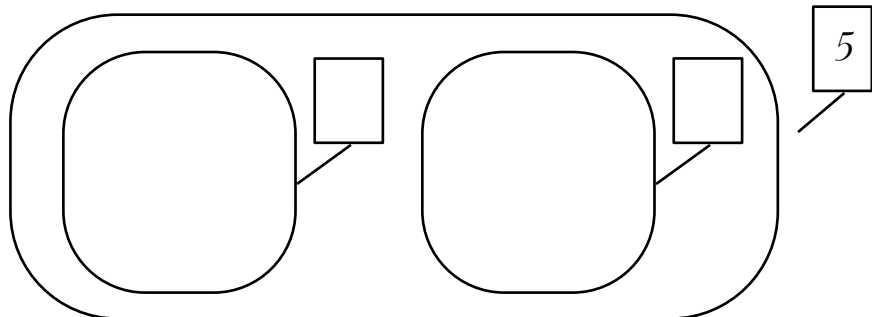
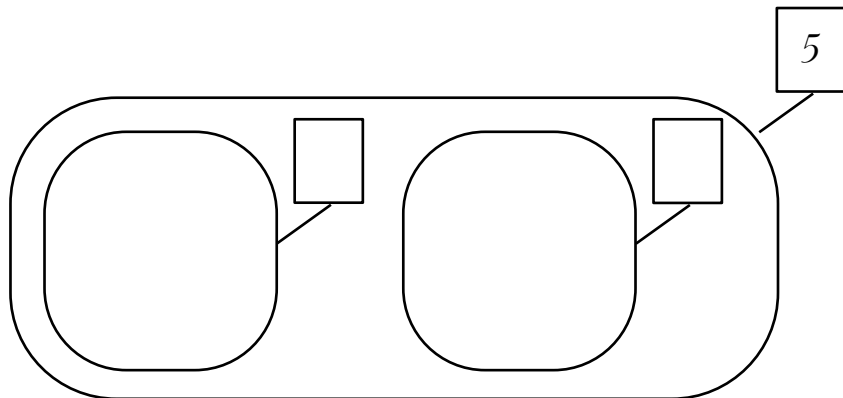
★ COLORA IL REGOLO CHE VALE 5



★ ESEGUI LE ADDIZIONI


2	+	3	=				4	+	1	=	
3	+	2	=				1	+	4	=	

★ FORMA 5 NELL'INSIEME UNIONE E SULL'ABACO

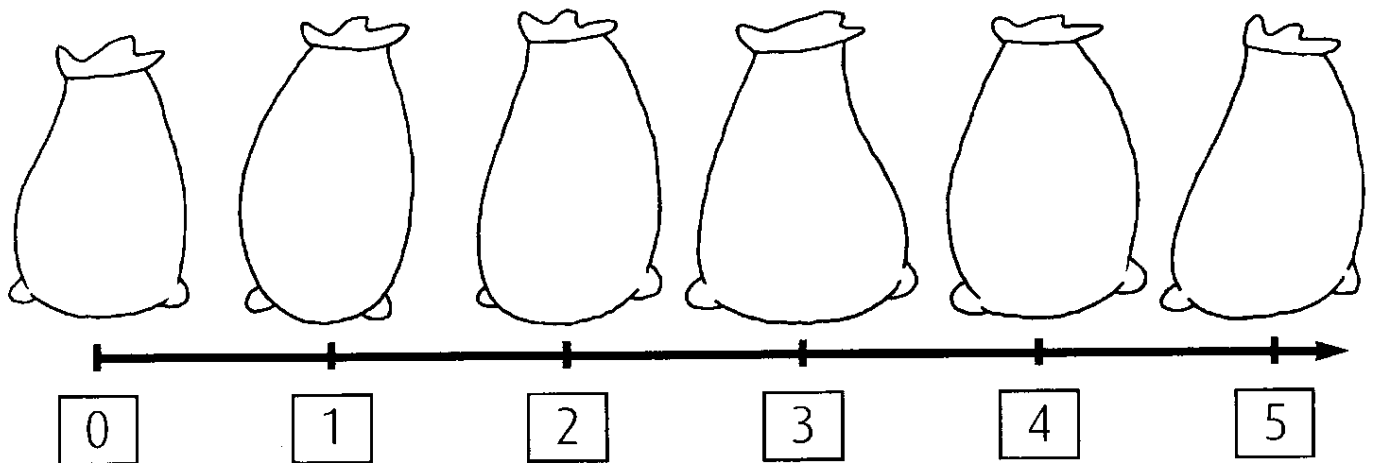


LA LINEA DEI NUMERI FINO A 5

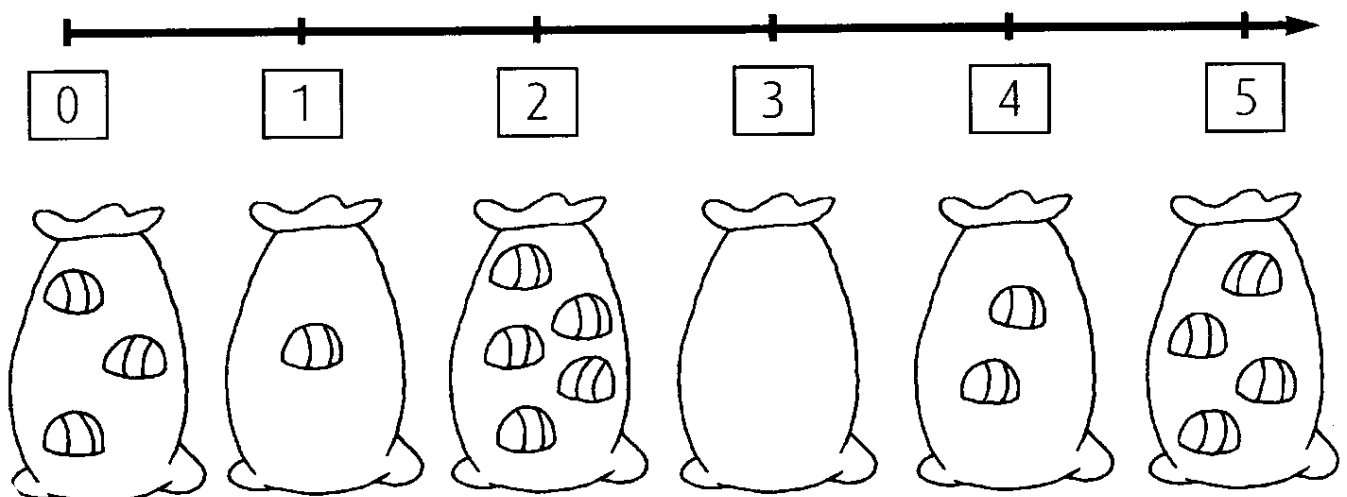
1. COMPLETA LA LINEA CON I NUMERI MANCANTI.



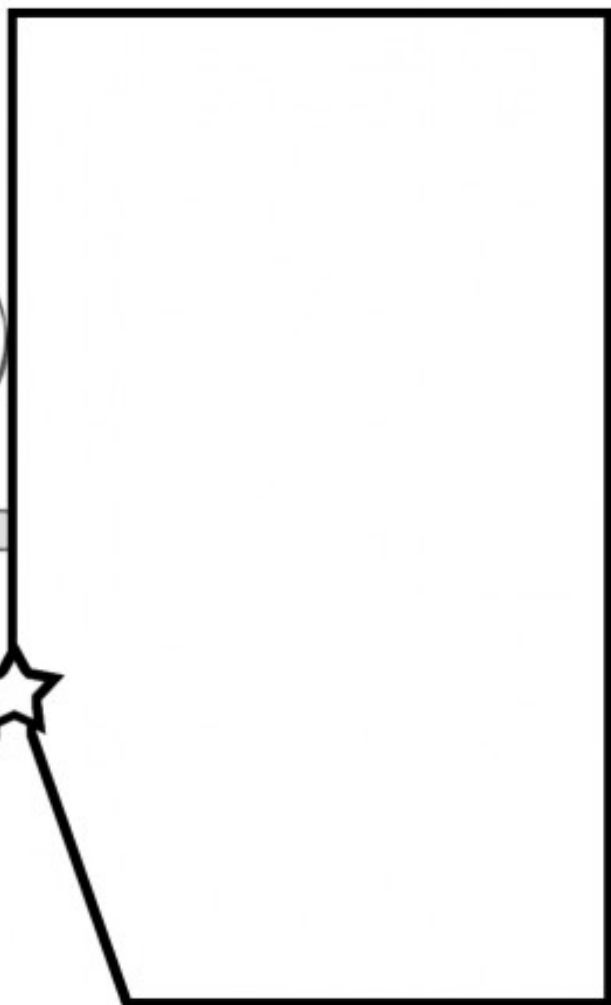
2. DISEGNA IN OGNI SACCHETTO IL NUMERO DI CAMELLE INDICATO.



3. CONTA I CIOCCOLATINI E COLLEGA CIASCUN SACCHETTO AL SUO NUMERO.

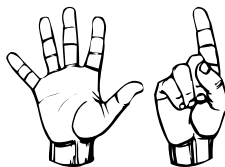


il mio albero di



Natale

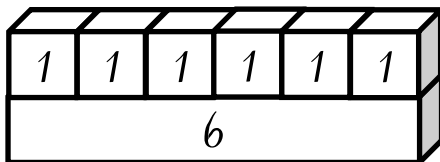
IL NUMERO SEI



★ SCRIVI IL NUMERO 6

6												
---	--	--	--	--	--	--	--	--	--	--	--	--

★ COLORA IL REGOLO CHE VALE 6




★ ESEGUI LE ADDIZIONI

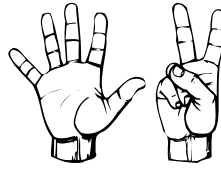
5	+	1	=					1	+	5	=	
2	+	4	=					4	+	2	=	
3	+	3	=					6	+	0	=	

★ CI SONO TANTE STELLE QUANTI ALBERI?

★ FAI LE CORRISPONDENZE E COLORA I QUADRATINI



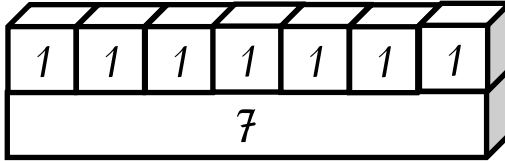
IL NUMERO SETTE



★ SCRIVI IL NUMERO 7

7												
---	--	--	--	--	--	--	--	--	--	--	--	--


★ COLORA IL REGOLO CHE VALE 7



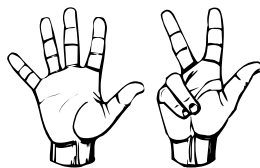
★ ESEGUI LE ADDIZIONI

6	+	1	=					1	+	6	=	
2	+	5	=					5	+	2	=	
3	+	4	=					4	+	3	=	
7	+	0	=					0	+	7	=	

★ DISEGNA 7 ELEMENTI NELL'INSIEME



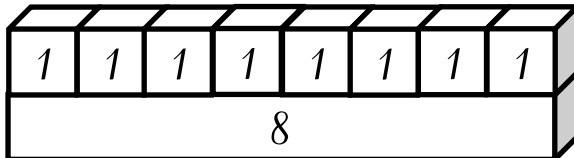
IL NUMERO OTTO



★ SCRIVI IL NUMERO 8

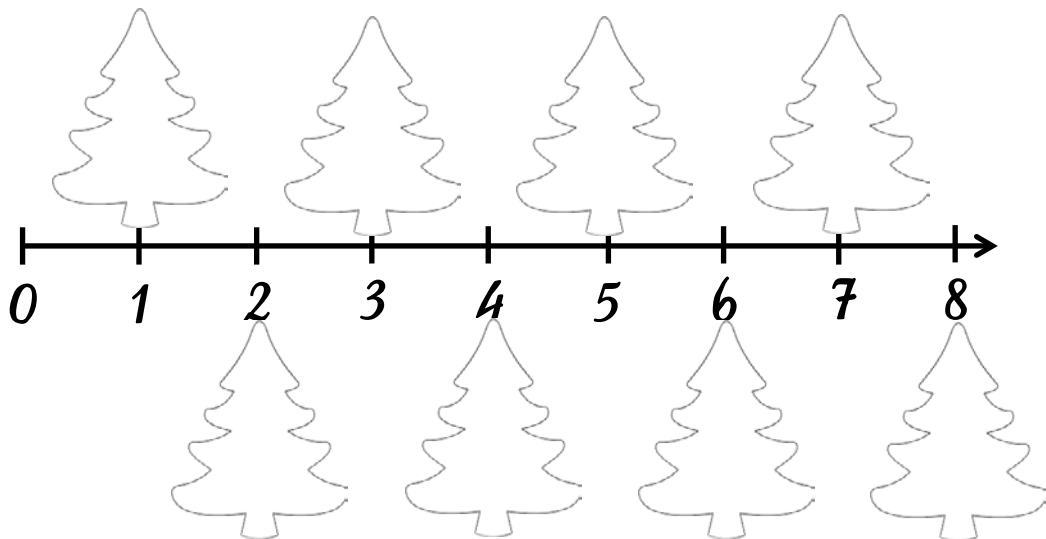
8												
---	--	--	--	--	--	--	--	--	--	--	--	--

★ COLORA IL REGOLO CHE VALE 8



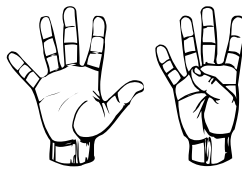
★ ESEGUI LE ADDIZIONI

7	+	1	=					1	+	7	=	
2	+	6	=					6	+	2	=	
3	+	5	=					5	+	3	=	
4	+	4	=					8	+	0	=	



★ DISEGNA CIASCUN ALBERO DI NATALE TANTE PALLINE QUANTE NE INDICA LA LINEA DEI NUMERI

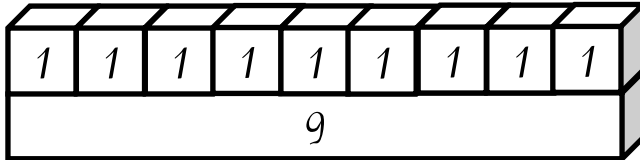
IL NUMERO NOVE



★ SCRIVI IL NUMERO 9

9												
---	--	--	--	--	--	--	--	--	--	--	--	--

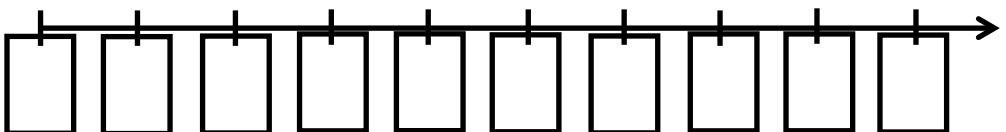
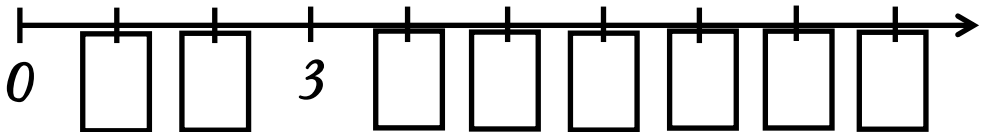
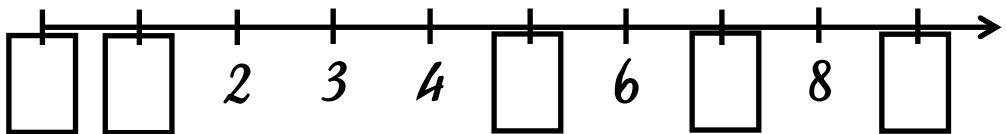
★ COLORA IL REGOLO CHE VALE 9




★ ESEGUI LE ADDIZIONI


8	+	1	=					1	+	8	=	
2	+	7	=					7	+	2	=	
3	+	6	=					6	+	3	=	
4	+	5	=					5	+	4	=	
9	+	0	=					0	+	9	=	

★ COMPLETA LA LINEA DEI NUMERI





AUGURI DI BUON NATALE !



NATALE 2014