

AUGURI DI BUON NATALE !





NATALE 2014

CLASSE 1ª

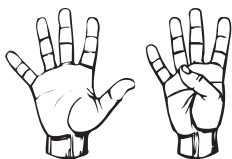
QUADERNO DI MATEMATICA PER LE VACANZE DI NATALE



DI



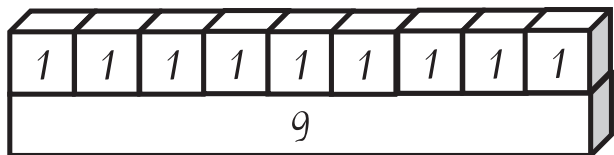
IL NUMERO NOVE



★ SCRIVI IL NUMERO 9

9																			
---	--	--	--	--	--	--	--	--	--	--	--	--	--	--	--	--	--	--	--

★ COLORA IL REGOLO CHE VALE 9



★ ESEGUI LE ADDIZIONI

8	+	1	=					1	+	8	=		
2	+	7	=					7	+	2	=		
3	+	6	=					6	+	3	=		
4	+	5	=					5	+	4	=		
9	+	0	=					0	+	9	=		

★ COMPLETA LA LINEA DEI NUMERI

		2	3	4		6		8	
0			3						

IL NUMERO ZERO



★ SCRIVI IL NUMERO 0

0																			
0																			
0																			

★ DISEGNA TANTI ELEMENTI QUANTI NE INDICA IL NUMERO

IL NUMERO UNO



★ SCRIVI IL NUMERO 1


1													
1													
1													

★ COLORA IL REGOLO CHE VALE 1



★ DISEGNA 1 ALBERO E 1 BAMBINO A DESTRA

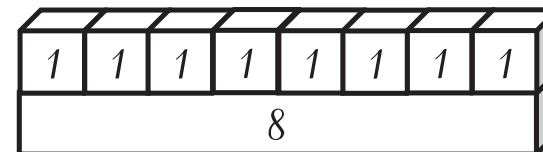
IL NUMERO OTTO



★ SCRIVI IL NUMERO 8

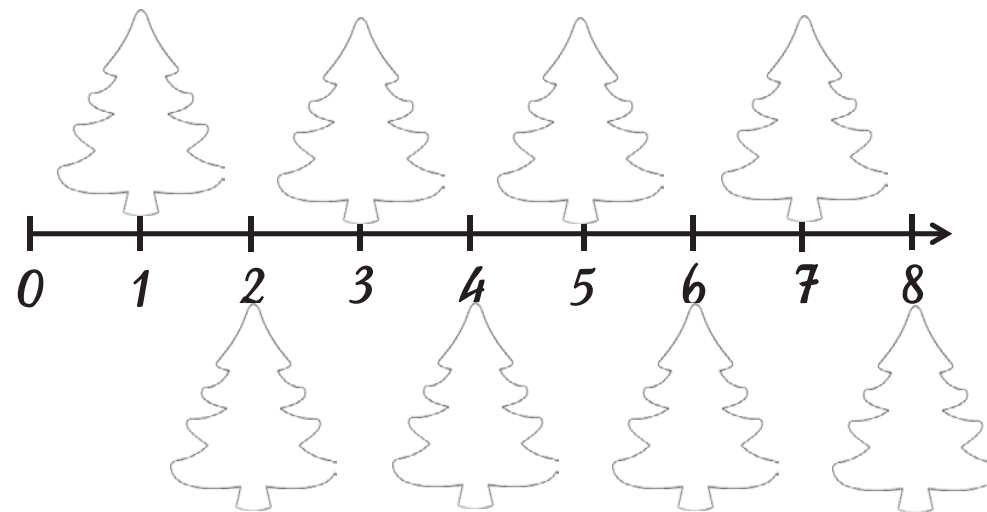
8													
---	--	--	--	--	--	--	--	--	--	--	--	--	--

★ COLORA IL REGOLO CHE VALE 8




★ ESEGUI LE ADDIZIONI

7	+	1	=					1	+	7	=	
2	+	6	=					6	+	2	=	
3	+	5	=					5	+	3	=	
4	+	4	=					8	+	0	=	



★ DISEGNA CIASCUN ALBERO DI NATALE TANTE PALLINE QUANTE NE INDICA LA LINEA DEI NUMERI

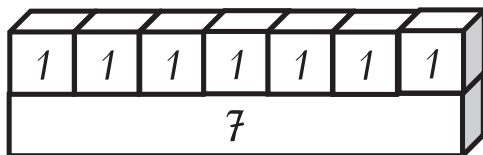
IL NUMERO SETTE



★ SCRIVI IL NUMERO 7

7																			
---	--	--	--	--	--	--	--	--	--	--	--	--	--	--	--	--	--	--	--

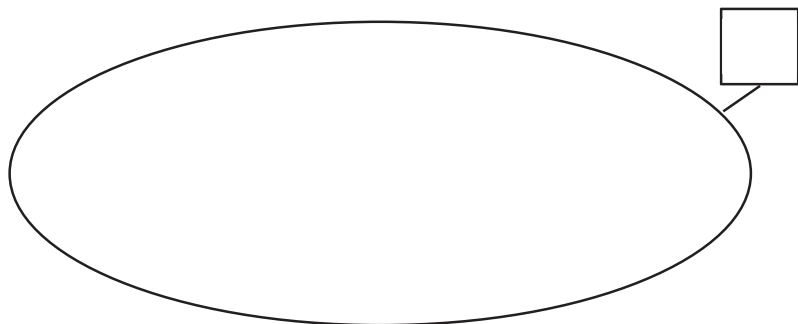
★ COLORA IL REGOLO CHE VALE 7



★ ESEGUI LE ADDIZIONI

6	+	1	=					1	+	6	=		
2	+	5	=					5	+	2	=		
3	+	4	=					4	+	3	=		
7	+	0	=					0	+	7	=		

★ DISEGNA 7 ELEMENTI NELL'INSIEME



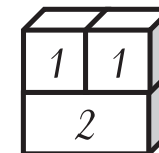
IL NUMERO DUE



★ SCRIVI IL NUMERO 2

2																			
2																			
2																			

★ COLORA IL REGOLO CHE VALE 2



★ ESEGUI L'ADDIZIONE

1	+	1	=	
---	---	---	---	--

★ DISEGNA 2 FIORI E 2 FARFALLE SOPRA I FIORI



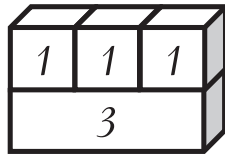
IL NUMERO TRE



★ SCRIVI IL NUMERO 3

3													
3													

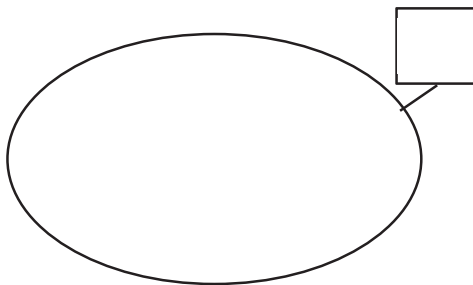
★ COLORA IL REGOLO CHE VALE 3



★ ESEGUI L'ADDIZIONE

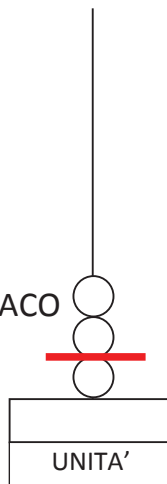
1	+	1	+	1	=	
---	---	---	---	---	---	--

★ DISEGNA 3 ELEMENTI NELL'INSIEME




★ SCRIVI L'ADDIZIONE RAPPRESENTATA DALL'ABACO

	+		=	
--	---	--	---	--



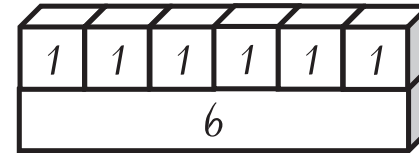
IL NUMERO SEI



★ SCRIVI IL NUMERO 6

6													
---	--	--	--	--	--	--	--	--	--	--	--	--	--

★ COLORA IL REGOLO CHE VALE 6





★ ESEGUI LE ADDIZIONI

5	+	1	=					1	+	5	=		
2	+	4	=					4	+	2	=		
3	+	3	=					6	+	0	=		

★ CI SONO TANTE STELLE QUANTI ALBERI?

★ FAI LE CORRISPONDENZE E COLORA I QUADRATINI





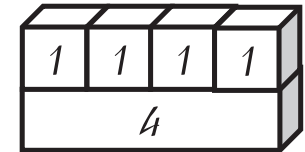
IL NUMERO QUATTRO



★ SCRIVI IL NUMERO 4

4														
---	--	--	--	--	--	--	--	--	--	--	--	--	--	--

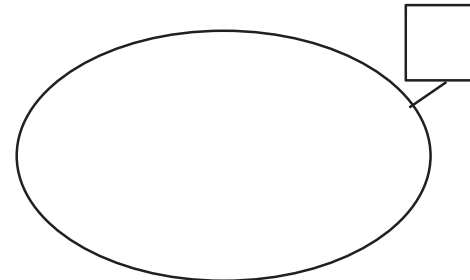
★ COLORA IL REGOLO CHE VALE 4



★ ESEGUI LE ADDIZIONI

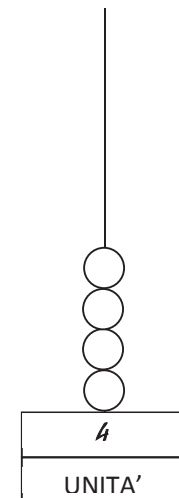
2	+	2	=					3	+	1	=	
0	+	4	=					1	+	3	=	

★ DISEGNA 4 ELEMENTI NELL'INSIEME



★ RAPPRESENTA UN'ADDIZIONE SULL'ABACO E SCRIVILA

	+		=	
--	---	--	---	--



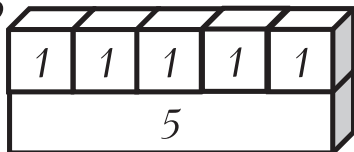
IL NUMERO CINQUE



★ SCRIVI IL NUMERO 5

5														
---	--	--	--	--	--	--	--	--	--	--	--	--	--	--

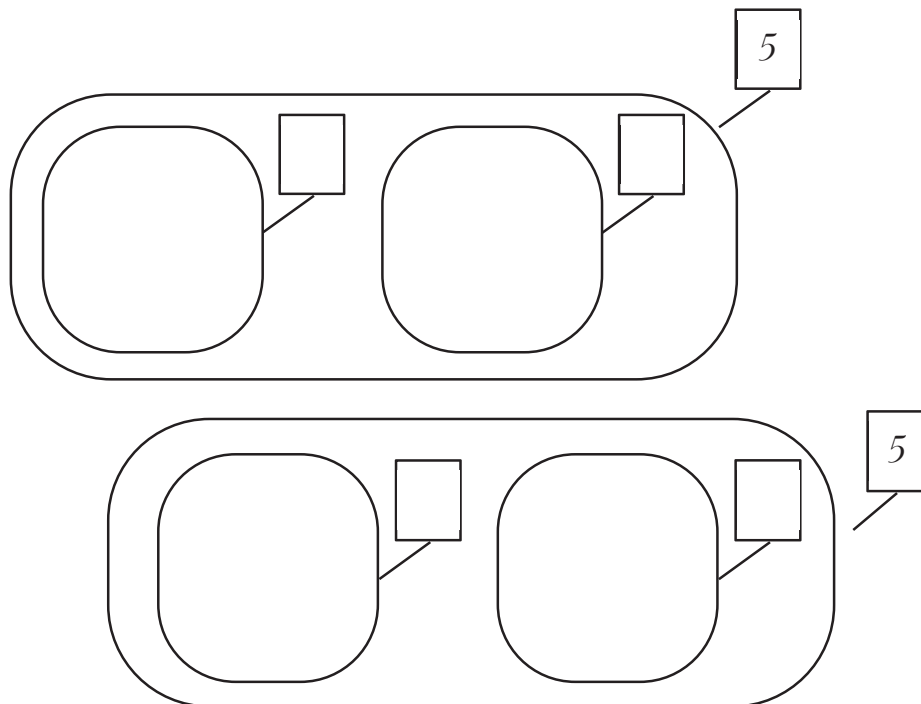
★ COLORA IL REGOLO CHE VALE 5



★ ESEGUI LE ADDIZIONI

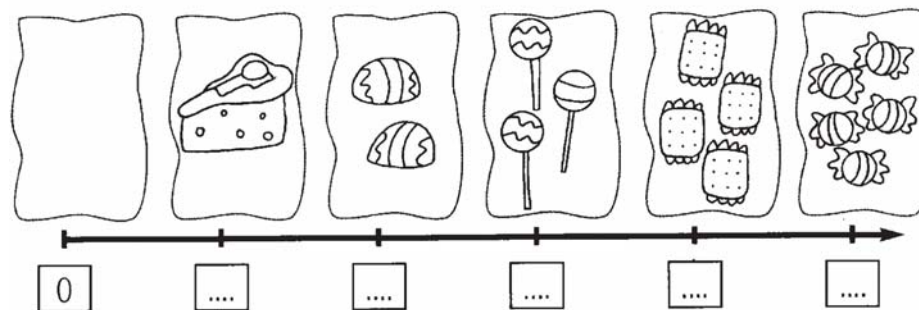
2	+	3	=				4	+	1	=		
3	+	2	=				1	+	4	=		

★ FORMA 5 NELL'INSIEME UNIONE E SULL'ABACO

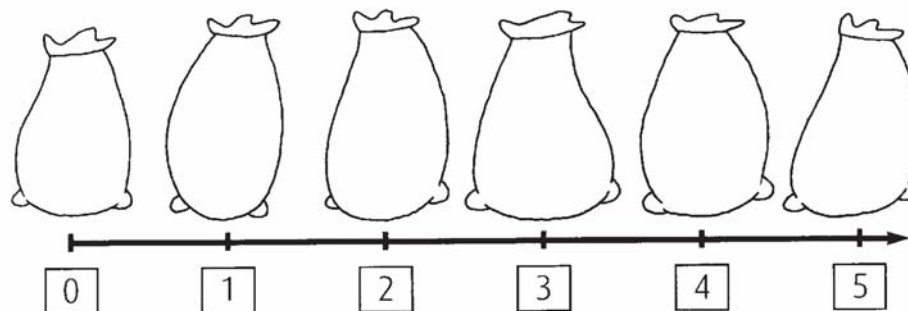


LA LINEA DEI NUMERI FINO A 5

1 COMPLETA LA LINEA CON I NUMERI MANCANTI.



2 DISEGNA IN OGNI SACCHETTO IL NUMERO DI CARMELLE INDICATO.



3 CONTA I CIOCCOLATINI E COLLEGA CIASCUN SACCHETTO AL SUO NUMERO.

